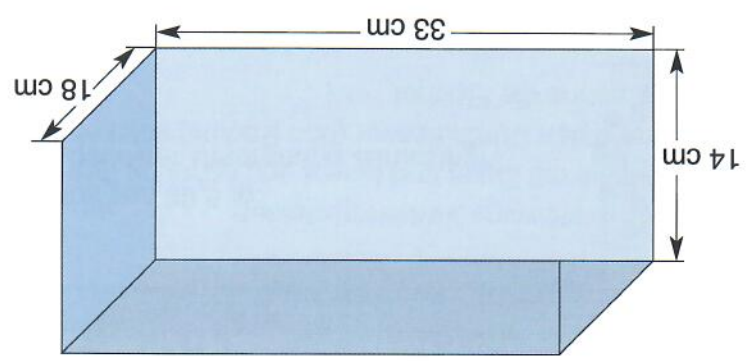
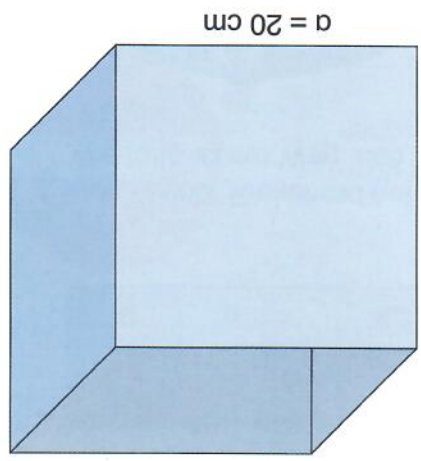



11 Erkundige dich nach den Preisen für 1 t Superbenzin, Normalbenzin und Diesel! In einer Tankstelle sind die Behälter für Superbenzin ( $a = 4 \text{ m}$ ,  $b = 2,40 \text{ m}$ ,  $h = 1,9 \text{ m}$ ), Normalbenzin ( $a = 3 \text{ m}$ ,  $b = 2,40 \text{ m}$ ,  $h = 1,9 \text{ m}$ ) und Diesel ( $a = 1,9 \text{ m}$ ) jeweils zur Hälfte gefüllt. a) Wie viel Treibstoff ist in den einzelnen Tanks? b) Welchen Wert hat der gelagerte Treibstoff?



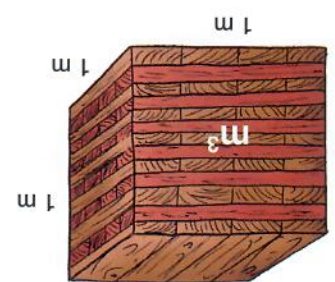
10 Welche Blechdose fasst mehr Mehl? Schätze vorher!



Raummeter

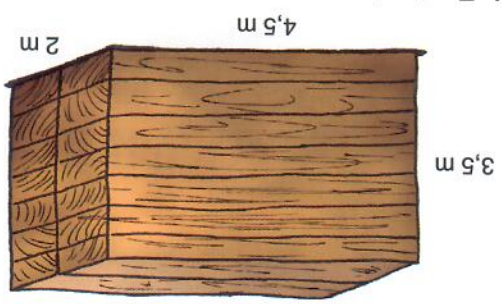
1 Raummeter Eichenholz bringt 65 €.

9 Der Waldbauer verkauft einen Holzstoß.



Festmeter (ohne Zwischenräume)

Die Verrechnung erfolgt nach Festmetern. 1 m<sup>3</sup> kostet 450 € inklusive Transport.



8 Eine Tischlerei kauft einen Stapel Holz auf: